


matematyka kl II

mały wynalazca



KAPITAŁ LUDZKI
CZŁOWIEK – NAJLEPSZA INWESTYCJA!



Wyższa Szkoła
Pedagogiczna
im. Janusza Korczaka
w Warszawie



UNIA EUROPEJSKA
EUROPEJSKI
FUNDUSZ SPOŁECZNY



Karta pracy 1

1. Ponumeruj miesiące.

październik	
kwiecień	
czerwiec	
luty	
maj	
styczeń	
sierpień	
grudzień	
wrzesień	
lipiec	
listopad	
marzec	

2. Uporządkuj liczby od najmniejszej do największej. Zapisz je.

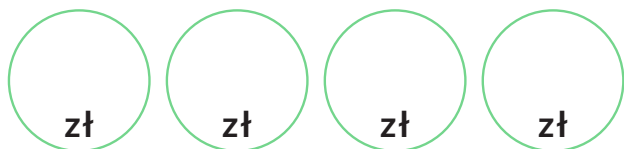
4, 0, 7, 13, 9, 1, 10, 5, 7, 6, 11, 17, 12, 9, 15

A blank sheet of graph paper with a grid pattern. The grid consists of small squares formed by thin gray lines. There are 20 columns and 10 rows of squares. The grid is centered on a white background.

Karta pracy 2

Dawid zapłacił w sklepie 14 zł. Napisz, jakimi monetami mógł się posłużyć.

14 zł



14 zł



14 zł



14 zł



14 zł



14 zł



Karta pracy 3

1. Uporządkuj liczby od największej do najmniejszej. Zapisz je.

2, 11, 3, 7, 1, 10, 5, 9, 4, 12, 6

[illegible]

2. Wpisz brakujące liczby.



3. Rozwiąż zadanie.

W pudełku było 26 ciasteczek. Sylwia zjadła 7 ciastek, a Dawid o 4 ciastka mniej. Ile ciasteczek zostało w pudełku?







Odp. W pudełku zostało
















































































































































































ciasteczek.

Karta pracy 4

1. Uzupełnij tabelki.

 + 	20	19	14	18	15	13	16	17	13
	8	7	3	1	4	2	5	5	2
									

2. Skreśl taką liczbę elementów, aby rysunki odpowiadały działaniom.

$17 - 4 = 13$	               
$19 - 1 = 18$	                        
$20 - 5 = 15$	                  
$16 - 4 = 12$	                        
$20 - 7 = 13$	                            
$19 - 9 = 10$	                        
$16 - 2 = 14$	                   
$18 - 4 = 14$	               



KAPITAŁ LUDZKI
CZŁOWIEK – NAJLEPSZA INWESTYCJA!



Wyższa Szkoła
Pedagogiczna
im. Janusza Korczaka
w Warszawie



UNIA EUROPEJSKA
EUROPEJSKI
FUNDUSZ SPOŁECZNY



Karta pracy 5

1. Rozwiąż zadanie.

Ola i Ania mają razem 19 lat. Ola ma 8 lat. Ile lat ma Ania?

A full-page sheet of white graph paper with a light gray grid. The grid consists of small squares, approximately 1 cm by 1 cm each. There are 20 columns and 20 rows of squares, creating a total area of 400 small squares. The grid lines are thin and evenly spaced.

Odp. Ania ma

 lat.

2. Oblicz według wzoru.

$$14 - 8 = 14 - 4 - 4 = 10 - 4 = 6$$

$12 - 7 =$

$15 - 9 =$

$12 - 6 =$

$19 - 6 =$

3. Uzupełnij tabelki.

A diagram showing a 2x8 grid of cells. The top row contains the numbers 10, 16, and 13 in the second, fourth, and sixth columns respectively. The bottom row contains the numbers 15, 19, 18, and 20 in the first, third, fifth, and seventh columns respectively. To the left of the grid, a green circle contains the text '+4', with a green arrow pointing to the top-left corner of the grid. To the right of the grid, a green circle contains the text '-4', with a green arrow pointing to the bottom-right corner of the grid.

	10		16		13		
15		19		18		20	

Karta pracy 6

1. Wstaw odpowiednie znaki: $>$, $<$, $=$.

$$12 - 5 \quad \square \quad 5$$

$$13 - 6 \quad \square \quad 7$$

$$9 + 4 \quad \square \quad 6$$

$$7 + 6 \quad \square \quad 13$$

$$14 - 6 \quad \square \quad 8$$

$$15 - 8 \quad \square \quad 9$$

$$6 + 3 \quad \square \quad 7$$

$$8 + 4 \quad \square \quad 12$$

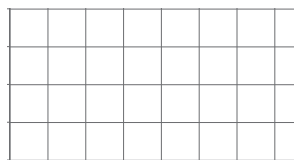
2. Rozwiąż zadanie.

Ola miała 25 zł. Kupiła dwie spinki po 6 zł i gumkę za 9 zł.

Ile złotych reszty dostała Ola?



Odp. Ola dostała



zł reszty.

3. Uzupełnij liczby na osi liczbowej



KAPITAŁ LUDZKI
CZŁOWIEK – NAJLEPSZA INWESTYCJA!



Wyższa Szkoła
Pedagogiczna
im. Janusza Korczaka
w Warszawie



UNIA EUROPEJSKA
EUROPEJSKI
FUNDUSZ SPOŁECZNY

